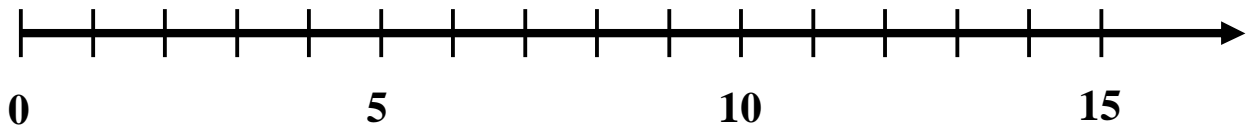


Der Zahlenstrahl

Auf dem Zahlenstrahl können verschiedene Zahlen liegen. Schau, ob Du die gesuchten Zahlen finden und eintragen kannst:

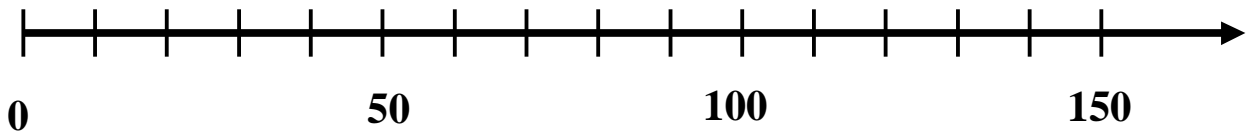
Zeichne folgende Zahlen in den Zahlenstrahl ein:

1, 3, 7, 11, 14



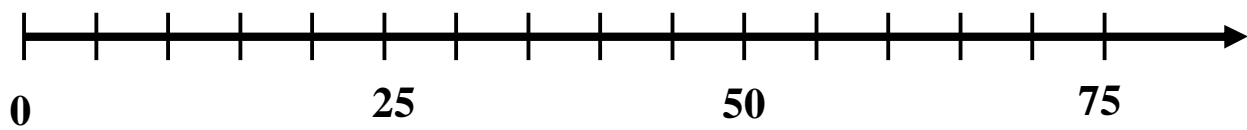
Zeichne folgende Zahlen in den Zahlenstrahl ein:

25, 60, 75, 125, 145



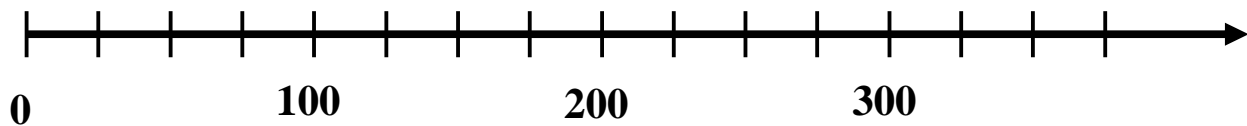
Zeichne folgende Zahlen in den Zahlenstrahl ein:

5, 15, 35, 55, 60, 70



Zeichne folgende Zahlen in den Zahlenstrahl ein:

25, 50, 150, 275, 350



Der Zahlenstrahl

Welche Zahl versteckt sich hinter dem Stern?

